

ઘોરણ:૨...
તારીખ:૦૩/૦૪/૧૮

બરોડા હાઈસ્કૂલ ઈંતેશ્વર
દ્વિતીય પરીક્ષા :૨૦૧૭-૧૮
વિષય: ચિત્ર

સમય: ૧ કલાક

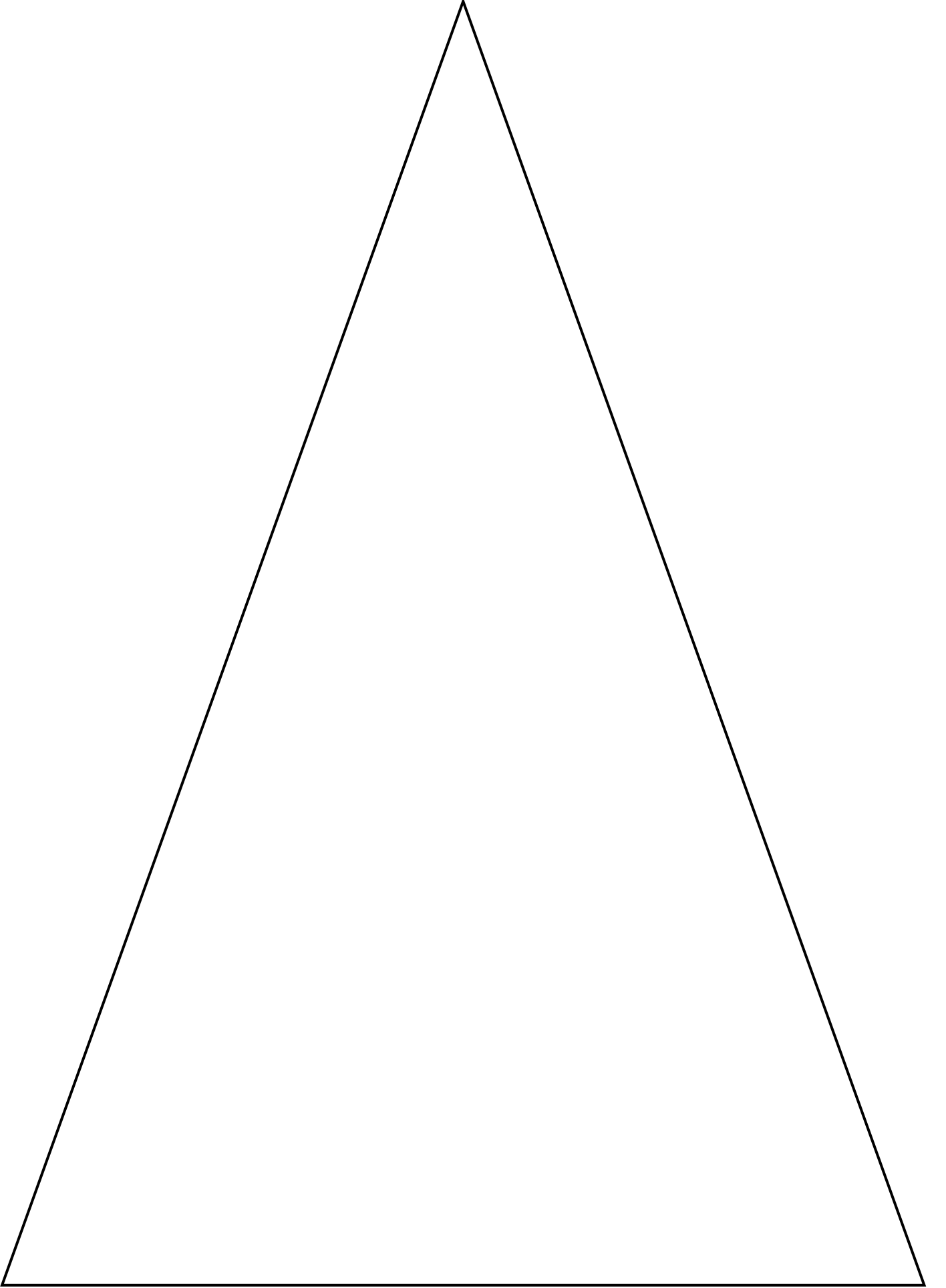
નામ:	રો.નં :	
પરીક્ષકની સહી :	મેળવેલ ગુણ	
નિરીક્ષકની સહી :	કુલ ગુણ	૪૦

પ્ર.૧.મનપસંદ ચિત્ર દોરી તેમાં ગમતાં રંગ પૂરો.

(૨૦)

પ્ર.૨.ત્રિકોણમાં મનપસંદ ડિઝાઈન દોરી તેમાં ગમતાં રંગ પૂરો.

(૨૦)



નામ:	રો.નં :	
પરીક્ષકની સહી :	મેળવેલ ગુણ	
નિરીક્ષકની સહી :	કુલ ગુણ	૨૦

પ્ર.૧(અ) આપેલ આલ્ફાબેટની સામે તેનો ગુજરાતી ઉચ્ચાર લખો.

(૦૨)

1) C c -

2) F f -

3) L l -

4) R r -


(બ) આપેલ ખાલીજગ્યામાં a , e , i , o કે u મૂકી સાચો સ્પેલીંગ બનાવો.

(૦૨)


1) M p 

2) P g 

3) T p 

4) L g 

5) G n 

6) x 

પ્ર.૨. સરખાં ઉચ્ચારવાળાં શાબ્દો લખો.

(૦૩)

1) Sun :

2) Get :

3) Pin :

પ્ર.૩(અ) ચિત્ર જોઈ This કે That ઉપયોગ કરી વાક્ય બનાવો.

(૦૩)

1) → 

2) 

3) → 

(બ)આપેલ રંગના સ્પેલીંગ લખો.

(૦૩)






(1) કેસરી :

(2) ભૂરો :

(3) પીળો :

પ્ર.જ. આપેલ ચિત્ર જોઈ તેનો સ્પેલીંગ અને ગુજરાતી અર્થ લખો.

(૦૫)

પ્ર.પ. નીચે આપેલ અંગ્રેજી ઉચ્ચાર સામે તેનો ગુજરાતી અર્થ લખો.

(૦૨)

(1) બેંગલસ :

(2) કૅપ :

(3) બ્લૅક બોર્ડ :

(4) રીંગ :

----Best of luck----

ધોરણ:૨...
તારીખ:૦૬/૦૪/૧૮

બરોડા હાઈસ્કૂલ દંતેશ્વર
દ્વિતીય પરીક્ષા :૨૦૧૭-૧૮
વિષય: પર્યાવરણ

સમય: ૧ કલાક

નામ:	રો.નં :	
પરીક્ષકની સહી :	મેળવેલ ગુણ	
નિરીક્ષકની સહી :	કુલ ગુણ	૨૦

પ્ર.૧(અ) નીચે આપેલ ખાલીજગ્યાઓ પૂરો.

(૦૩)

- (૧) ડૉક્ટર માં કામ કરે છે.
- (૨) ચોરોને પકડવાનું કામ કરે છે.
- (૩) લોકો બચાવેલા પૈસા મૂકવા માં જાય છે.
- (૪) ને ત્રણ પૈંડા હોય છે.
- (૫) મુળ્લાને ના દિવસે શાળામાં રજા હતી.
- (૬) સૂરજ માથા ઉપર હોય છે.

(બ) મને ઓળખી મારું નામ લખો.

(૦૨)

- (૧) મને ઉગમણી દિશા પણ કહે છે. જવાબ:
- (૨) હું અમાસની રાતે આકાશમાં દેખાતો નથી. જવાબ:
- (૩) હું બાળકોને ભણાવું છું. જવાબ:
- (૪) હું હિન્દુઓનું પવિત્ર ધર્મસ્થળ છું. જવાબ:

પ્ર.૨(અ)નીચેની પરિસ્થિતિમાં તમે કયા સ્થળે જશો ? ખાલીજગ્યામાં જવાબ લખો.

(૦૩)

- (૧) હીચકા ખાવા છે. જવાબ:
- (૨) પોસ્ટકાર્ડ ખરીદવું છે. જવાબ:
- (૩) પુસ્તકો અને છાપા વાંચવા છે. જવાબ:
- (૪) રેલગાડીમાં મુંબઈ જવું છે. જવાબ:
- (૫) મમ્મી બીમાર પડી છે. જવાબ:
- (૬) બસમાં અમદાવાદ જવું છે. જવાબ:

(બ) નીચે આપેલા વિધાનો ✓ છે કે x તેની નિશાની કરો.

(૦૨)

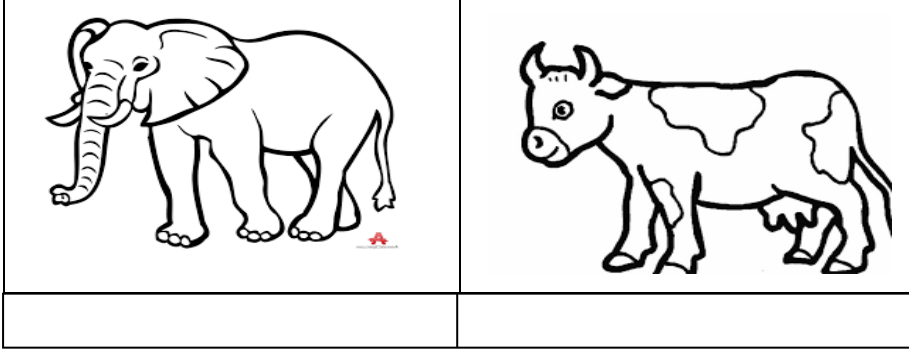
- (૧) ગલૂડિયાને હાથમાં વાગ્યું હતું.
- (૨) સૂરજ ઊગે એટલે સવાર થઈ કહેવાય.
- (૩) દિશાઓ ચાર છે.
- (૪) મમ્મી અને સ્મિતા ફરવા ગયા.

પ્ર.૩. કોઈ પણ બે ધર્મ ચિહ્ન દોરી તે કયા ધર્મનું પ્રતિક છે તે લખો.

(૦૨)

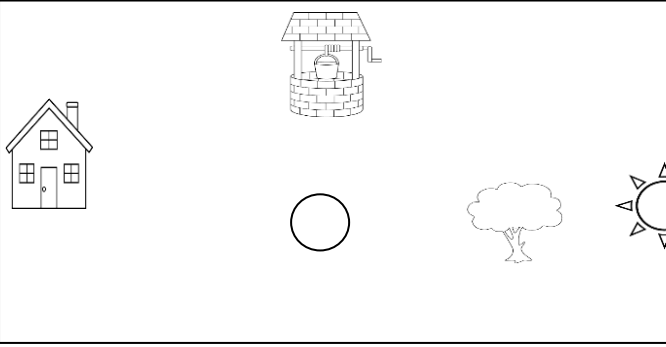
પ્ર.૪. નીચે આપેલ ચિત્રમાં પ્રાણીનું કયું અંગ નથી તે શોધી દોરો તથા લખો.

(૦૨)



પ્ર.૫(અ)નીચે આપેલ ચિત્ર આધારે પ્રશ્નોના જવાબ લખો.

(૦૨)



- (૧) ઘર કઈ દિશામાં છે ? જવાબ
:.....
- (૨) ઝાડ કઈ દિશામાં છે ? જવાબ
:.....
- (૩) ફૂલો કઈ દિશામાં છે ? જવાબ
:.....
- (૪) ગાય કઈ દિશામાં છે ? જવાબ
:.....

(બ) નીચે આપેલ પ્રશ્નોના જવાબ પૂરા વાક્યમાં લખો.

(૦૪)

(૧) સૂરજના ઉગવા અને આથમવા આધારે શું જાણી શકાય છે ?

જવાબ:

(૨) મુજ્જો શું જોવામાં મસ્ત હતો ?

જવાબ:

(૩) મમ્મી અને સ્મિતા કોની પાસે ગયા ?

જવાબ:

(૪) મુસલમાનોનું પવિત્ર ધર્મસ્થળ કયું છે ?

જવાબ:

ધોરણ:૨...
તારીખ:૧૧/૦૪/૧૮

બરોડા હાઈસ્કૂલ દંતેશ્વર
દ્વિતીય પરીક્ષા :૨૦૧૭-૧૮
વિષય: સામાન્યજ્ઞાન

સમય: ૧ કલાક

નામ:	રો.નં :	
પરીક્ષકની સહી :	મેળવેલ ગુણ	
નિરીક્ષકની સહી :	કુલ ગુણ	૨૦

પ્ર.૧(અ) નીચે આપેલી ખાલીજગ્યાઓ પૂરો.

(૦૮)

- (૧) આપણે રસ્તાની બાજુએ ચાલવું જોઈએ.
- (૨) ટ્રાફિક પોલિસ આપણો છે.
- (૩) સરકસમાં આપણને હસાવે છે.
- (૪) ચૉકલેટ સ્વાટે લાગે છે.
- (૫) સ્વાટે તીખાં હોય છે.
- (૬) દિવસે આકાશમાં દેખાય છે.
- (૭) ભારતનું રાષ્ટ્રીય પ્રાણી છે.
- (૮) આપણા દેશનું નામ છે.

(બ)નીચે કેટલીક ટેવો આપેલ છે.તેની સામે સારી ટેવ કે ખરાબ ટેવ એમ લખો.

(૦૪)

- (૧) અલય સવારે બરાબર દાંત સાફ કરે છે. જવાબ:.....
- (૨) પરેશ વર્ગમાં ગમે ત્યાં કચરો નાંખે છે. જવાબ:.....
- (૩) આકાશ ક્યારેય જૂઠું બોલતો નથી. જવાબ:.....
- (૪) વિજય રેડિયોનો અવાજ મોટો રાખે છે. જવાબ:.....

પ્ર.૨(અ) માગ્યા મુજબ ચાર નામ લખો.

(૦૮)

- (૧) ફૂલના નામ :
- (૨) આકારોના નામ :
- (૩) રંગોના નામ :
- (૪) રમતોના નામ :

(બ)નીચે આપેલ શબ્દોને તેના યોગ્ય ક્રમમાં ગોઠવીને લખો.

(૦૪)

(૧) દિવસ ,મિનિટ , કલાક , સેકન્ડ .

જવાબ :

(૨) દહીં , ઘી , માખણ , દૂધ .

જવાબ :

પ્ર.૩.નીચેના પ્રશ્નોના જવાબ એક શબ્દમાં લખો.

(૦૮)

- (૧) પ્રાણીઓને કેટલા પગ હોય છે ? જવાબ:.....
- (૨) સૂર્ય કઈ દિશામાં ઊગે છે ? જવાબ:.....
- (૩) આપણા રાજ્યનું નામ શું છે ? જવાબ:.....
- (૪) પાકા ટામેટાનો રંગ કેવો હોય છે ? જવાબ:.....
- (૫) લીબુ સ્વાદે કેવું હોય છે ? જવાબ:.....
- (૬) સોમવાર પછી કયો વાર આવે છે ? જવાબ:.....
- (૭) ૧૪મી જાન્યુઆરી એ કયો તહેવાર આવે છે ? જવાબ:.....
- (૮) અંગ્રજી મહિના પ્રમાણે વર્ષનો છેલ્લો મહિનો કયો છે ? જવાબ:.....





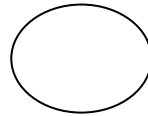
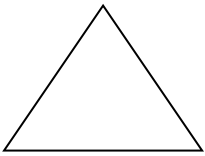
પ્ર.૪. જોડકાંના સાચા જવાબ લખો.

(૦૪)

અ	જવાબ	બ
(૧) રાષ્ટ્રધ્વજ	કઠોળ
(૨) ડૉક્ટર	તિરંગો
(૩) ચણા	રાષ્ટ્રગીત
(૪) વકીલ	સ્વાદે કડવાં
(૫) કારેલાં	પૂજાનુંસ્થળ
(૬) મંદિર	સમય જોવાં
(૭) જન...ગણ...મન	કોર્ટમાં
(૮) ઘડિયાળ	દવાખાનામાં




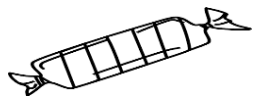


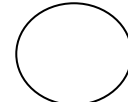
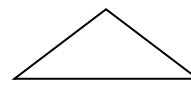


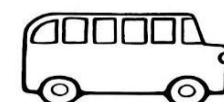





પ્ર.૫(અ) નીચે આપેલ આકારોના નામ લખો.

(૦૨)



પ્ર.૩(અ) અલગ પડતા ચિત્ર પર x ની નિશાની કરો.

(૦૨)

ધોરણ:૨...
તારીખ:૦૪/૦૪/૧૭

બરોડા હાઈસ્કૂલ દંતેશ્વર
દ્વિતીય પરીક્ષા :૨૦૧૭-૧૮
વિષય: ગુજરાતી

સમય: ૧ કલાક

નામ:	રો.નં :	
પરીક્ષકની સહી :	મેળવેલ ગુણ	
નિરીક્ષકની સહી :	કુલ ગુણ	૨૦

પ્ર.૧(અ) આપેલ ઉખાણાં વાંચી સાચો જવાબ લખો.

(૦૩)

(૧) ઉનાળામાં આવું છું,
લીલી પીળી દેખાતી,
કાચી પાકી સૌને ભાવતી,

બોલો હું કોણ છું ??? જવાબ:

(૨) પંદર દિવસ વધતો જાય,

પંદર દિવસ ઘટતો જાય.

સૂરજની તો લઈને સહાય,

અજવાળાં પાથરતો જાય. જવાબ:

(૩) લીલું લીલું અંગ,
રાતી-રાતી ચાંચ.
મીઠું-મીઠું બોલે,
ઝાડે બેસી હીચકા ખાતો,
ડાળી ઉપર ડોલે.

જવાબ:

(બ) આપેલ ચિત્ર ઓળખી માં નામ લખી તેના વિશે બે વાક્યો લખો.

(૦૪)



પ્ર.૨(અ) નીચેના વાક્યો કોણ કોને કહે છે તે લખો.

(૦૩)

(૧) “હા, કોઈ દિવસ તો આવતાં જ નથી.”

જવાબ:

(૨) ચાંદામામાને તો મજા જ છે ને !

જવાબ:

(૩) વહેલા-મોડા આવવું એ મારો સ્વભાવ છે.

જવાબ:

(બ) નીચે આપેલા શબ્દોના સમાનાર્થી લખો.

(૦૨)

(૧) સૂરજ =

(૩) દિવસ =

(૨) શાળા =

(૪) પવન =

પ્ર.૩(અ) નીચે આપેલ શબ્દોનું બહુવચન કરી લખો.

(૦૨)

(૧) પંખો =

(૩) ઋતુ =

(૨) મણકો =

(૪) રૂપિયો =

પ્ર.૪. સરખાં ઉચ્ચારવાળાં શબ્દો લખો.

(૦૨)

(૧) હસતાં =

(૩) ગાતાં =

(૨) પડવું =

(૪) તર્ક =

પ્ર.૫. નીચે આપેલ પ્રશ્નોના જવાબ પૂરા વાક્યમાં લખો.

(૦૪)

(૧) સૂરજ કોની પાછળ સંતાઈ ગયો ?

જવાબ:

.....

(૨) પશુ-પંખી ક્યાં આવતા હતા ?

જવાબ:

.....

(૩) ચાંદામામાની શી કલા છે ?

જવાબ:

.....

(૪) ટુકડી પાડ્યા વગર રમાતી બે રમતોના નામ લખો.

જવાબ:

.....

-----Best of lock-----

ધોરણ:૨...
તારીખ:૧૦/૦૪/૧૮

બરોડા હાઈસ્કૂલ ટંતેશ્વર
દ્વિતીય પરીક્ષા :૨૦૧૭-૧૮
વિષય: હિન્દી

સમય: ૧ કલાક

નામ:	રો.નં :
પરીક્ષકની સહી :	મેળવેલ ગુણ
નિરીક્ષકની સહી :	કુલ ગુણ ૨૦

પ્ર.૧(અ)નીચે આપેલ બારાક્ષરી પૂર્ણ કરો.

(૦૩)

કં	ખં		ઘં	ચં	છં	જં	ઝં
ટં	ઠં	ડં	ઢં		તં	થં	દં
ધં	નં		ફં	બં	ભં		યં
રં	લં	વં		ષં	સં	હં	ક્ષં
ત્રં							

(બ) નીચે આપેલી ખાલીજગ્યા પૂરો.

(૦૩)




૧. બજાતા કનૈયા ।

૨. ડડતી આઈ ।

૩. વાલા હાથી ।

પ્ર.૨(અ) ચિત્ર ઓળખી તેનું નામ હિન્દીમાં લખો.

(૦૩)

(બ) આપેલ હિન્દી નામ ના ગુજરાતી અર્થ લખો.

(૦૩)

૧. બંદર :

૨. નૈયા :

૩. ગુડિયા :

પ્ર.૩(અ) હિન્દી અંક સામે ગુજરાતી અંક લખો.


(૦૨)

૧૬ : ૨૦ :

૧૩ : ૧૫ :

(બ) ચિત્ર ગણી હિંટીમાં સંખ્યા અંક અને શબ્દમાં લખો.

(૦૩)



પ્ર.૪.આપેલ મૂળાક્ષર સામે ○ કરો.

(૦૩)

૧. ડ - બ ના ડ

૨. ઈ - ઈ ન ક

૩. ઋ - ઋ ષિ

૪. ઔ - ઔ ષ ધ

૫. ખ - ઓ ખ લી

૬. ઓ - ક હ લા ઓ ગે

----Best of luck----

ધોરણ:૨...
તારીખ:૦૨/૦૪/૧૮

બરોડા હાઈસ્કૂલ દંતેશ્વર
દ્વિતીય પરીક્ષા :૨૦૧૭-૧૮
વિષય: ગણિત

સમય: ૧ કલાક

નામ:	રો.નં :	
પરીક્ષકની સહી :	મેળવેલ ગુણ	
નિરીક્ષકની સહી :	કુલ ગુણ	૨૦


પ્ર.૧(અ) નીચે આપેલી ખાલીજગ્યામાં સાચો જવાબ લખો.

(૦૩)

- (૧) ત્રિકોણને બાજુ હોય છે.
- (૨) ભારતનું ચલણી નાણું છે.
- (૩) બંગડીનો આકાર હોય છે .
- (૪) ૭૫ માં ૭ દશક અને ૫ છે.
- (૫) $30 + 40 =$ થાય.
- (૬) નવ પંચા થાય.

(બ) નીચે આપેલ ચિત્રમાં આકારો ગણી તેની સંખ્યા લખો.

(૦૨)



ચોરસ

લંબચોરસ

ગોળ.....

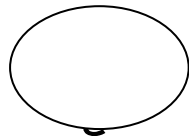
ત્રિકોણ.....

પ્ર.૨(અ) માં સાચો જવાબ લખો.

૧૦ -

૯ -

(૦૨)



૧૨ -

૧૬ -

પ્ર.૨(બ) ગુણાકાર સ્વરૂપે લખી જવાબ મેળવો.

(૦૨)

(૧) ૬ + ૬ + ૬ + ૬ + ૬ + ૬ = ૩૬ X =

(૨) ૮ + ૮ + ૮ + ૮ = ૮ X =

પ્ર.૩. નીચે આપેલ આકારથી બનતી બે-બે વસ્તુના નામ લખો.

(૦૩)



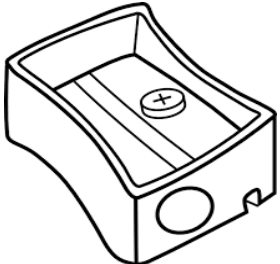

(૧) ત્રિકોણ :,

(૨) લંબચોરસ :,

(૩) ચોરસ :,

પ્ર.૪. વસ્તુની કિંમત આધારે પ્રશ્નોના જવાબ લખો.

(૦૩)

			
૪ રૂપિયા	૧૦ રૂપિયા	૫ રૂપિયા	૩ રૂપિયા

(૧) એક સંયો અને માપપટ્ટીની કુલ કિંમત રૂપિયા થાય.

(૨) એક પેન્સિલ અને નોટબુકની કુલ કિંમત રૂપિયા થાય.

(૩) એક પેન્સિલ અને સંયાની કુલ કિંમત રૂપિયા થાય.

પ્ર.૫. નીચેના દાખલા ગણો.

(૦૫)

$\begin{array}{r} ૪૩ \\ + ૧૮ \\ \hline \end{array}$	$\begin{array}{r} ૭૫ \\ - ૪૪ \\ \hline \end{array}$	$\begin{array}{r} ૯૩ \\ - ૬૨ \\ \hline \end{array}$	$\begin{array}{r} ૬૩ \\ + ૨૯ \\ \hline \end{array}$	$\begin{array}{r} ૧૨ \\ + ૧૮ \\ + ૩૫ \\ \hline \end{array}$

