

પ્ર.૧ (અ) નીચેના દરેક પ્રશ્નના જવાબ માટે આપેલા વિકલ્પોમાંથી સાચો વિકલ્પ શોધીને લખો.

(૬)

૧. તમારા વર્ગને સાફ રાખવા માટે શું કરશો?

(અ) એક જ વિદ્યાર્થીને સફાઈ કરવા કહીશું.
(ક) ફક્ત છોકરીઓને જ સફાઈ કરવા કહીશું.

(બ) બે વિદ્યાર્થીઓને સફાઈ કરવા કહીશું.

(ડ) વર્ગના બધાં જ બાળકોને વારાફરતી સફાઈ કરવા કહીશું.

૨. ખોરાક આપણા શરીરને શું આપે છે?

(અ) શક્તિ (બ) આરામ (ક) ઊંઘ (ડ) કામ

૩. નીચેના માંથી કયું સજીવ છે?

(અ) વિમાન (બ) લાકડી (ક) ગુલાબ (ડ) પતંગ

૪. આપણો સૌથી લાંબો ચાલતો ઉત્સવ કયો છે?

(અ) ઉતરાયણ (બ) નવરાત્રિ (ક) ભાઈબીજ (ડ) હોળી

૫. કયા પ્રાણીના વાળમાંથી ઊન બને છે?

(અ) બકરી (બ) ઘોડો (ક) ઘેંટું (ડ) બિલાડી

૬. કયા અવકાશી પદાર્થને કારણે સવાર, બપોર અને સાંજ થાય?

(અ) ચંદ્ર (બ) તારા (ક) ગ્રહ (ડ) સૂરજ

પ્ર.૧ (બ) યોગ્ય શબ્દો વડે નીચેના વિધાનોની ખાલીજગ્યા પૂરો.

(૨)

૧. પંખીઓ..... મૂકે છે.

૨. જે મકાનનું ભોંયતળિયું માટી, લીપણ કે છાણનું બનેલું હોય તેનેમકાન કહેવાય.

૩. કાગડા પાસેથી..... પૂરી લઈ ગયું.

૪. આપણે વડીલોને..... કરવા જોઈએ.

પ્ર.૧ (ક) નીચેનાં વિધાનો માંથી સાચાં વિધાનો સામે ✓ ની અને ખોટાં વિધાનોની સામે X ની નિશાની કરો.

(૨)

૧. બજારમાં વેચાતી ખુલ્લી ચીજો કટી ન ખવાય.

૨. રિક્ષા દોડે છે, તેથી તે સજીવ છે.

૩. કાચિંડો તેનો રંગ બદલી શકે છે.

૪. એકમથી પૂનમ સુધી ચંદ્રની કળાઓ ઘટતી જાય છે.

પ્ર.૨ નીચેના પ્રશ્નોના વિસ્તારથી ઉત્તર લખો. (ગમે તે પાંચ)

(૧૦)

૧. જે લોકોના ઘર ન હોય તેમને કેવી તકલીફ પડે?

૨. વનસ્પતિ સૃષ્ટિના ઉપયોગો જણાવો.

૩. કેવો ખોરાક ખાવાથી તાકાત આવે છે?

૪. ચાર સારી આદતો જણાવો.

૫. ચંદ્રને બીજા કયા નામથી ઓળખવામાં આવે છે? પૂનમની રાત્રે ચંદ્રને આકાર કેવો હોય છે?

૬. રાંધવા માટે ઘરમાં કયાં કયાં વાસણો વપરાય છે?

પ્ર.૩ નીચેના પ્રશ્નોના માગ્યા મુજબ જવાબ આપો.

(૧૦)

૧. સફાઈના સાધનોના બે નામ લખો.

૨. આપેલા પ્રાણીઓના ઉપયોગ લખો : (અ) ફૂતરો (બ) ગાય

૩. ચાલવાની નીચેની રીતોને આધારે પ્રાણીઓના નામ લખો : (અ) ચાલે

(બ) ઉડે

(ક) સરકે.

૪. કોઈ પણ એક પક્ષીનું ચિત્ર દોરી કદ, રંગ અને ખોરાક વિશે લખો.

પ્ર.૪ (અ) નીચેના પ્રશ્નોના ઉત્તર એક વાક્યમાં લખો.

(૫)

૧. બરફના ચોસલામાંથી બનાવેલા ઘરને શું કહેવાય છે?

૨. કયાં પ્રાણીઓ ખોરાક ગળીને ખાય છે?

૩. સૂર્ય કઈ દિશામાં ઊગે છે?


૪. ભાઈ-બહેન ટોમીને શું આપ્યું?

૫. ખોરાક કેવી રીતે ખાવો જોઈએ?

પ્ર.૪ (બ) નીચેના ચિત્રનું અવલોકન કરો. તેમાં રહેલા સજીવ અને નિર્જીવનું

(૫)

વર્ગીકરણ કરી દરેકના નામ લખો.



પ્ર.૧(અ)નીચે આપેલા વિકલ્પોમાંથી યોગ્ય વિકલ્પ પસંદ કરી જવાબ લખો.

(૦૬)

- ૧)બપોરે સિંહ શું કરતો હતો?
 અ)ખાતો હતો. બ)ઊંઘતો હતો. ક)ફરતો હતો. ડ)શિકાર કરતો હતો.
- ૨)સૌનો રક્ષણહાર કોણ છે?
 અ)સૈનિક બ)ચોડીદાર ક)ઈશ્વર ડ)દેવદૂત
- ૩)વાવણી પછી કાબરે શું કર્યું?
 અ)કાપણી બ)લણણી ક)નીંદણ ક)ઢગલો
- ૪)પડછાયો ક્યાં રમે છે?
 અ)ઘરની આસપાસ બ)તડકાની આસપાસ ક)પાણીમાં ડ)મેદાનમાં
- ૫)કોની સામે થવાની કોઈની હિમત નથી?
 અ)શિક્ષકની બ)સિંહની ક)વાઘની ડ)સિપાઈની
- ૬)ગણેશ અને કાર્તિકેયને કેટલાં તીર્થ કરવાનાં હતાં?
 અ)ચાર બ)બાર ક)અડસઠ ડ)સડસઠ

પ્ર.૧ (બ)નીચેના શબ્દોના સમાનાર્થી શબ્દ લખો.

(૧.૫)

- ૧)દોસ્તી ૨)પાંદડું ૩)વખત

પ્ર.૧ (ક)નીચેના શબ્દોના વિરોધી શબ્દ લખો.

(૧.૫)

- ૧)ઘરતી ૨)હિમત ૩)ઉપર

પ્ર.૧ (ડ)નીચેના શબ્દસમૂહ માટે એક શબ્દ લખો.

(૦૩)

- ૧)મોટી ફાંદવાળા ૨)ખેતરમાંથી નકામું ઘાસ ઉખેડી નાખવું. ૩)સિંહની આકૃતિવાળું આસન

પ્ર.૧ (ચ)નીચેની ખાલી જગ્યા પૂરો.

(૦૩)

- ૧)વીજની આસપાસ.....રમે.
 ૨)પરોઢિયે.....મીઠાં ગાન ગાય છે.
 ૩)સિંહ.....માં ફસાયો.

પ્ર.૨ (અ)નીચેના પ્રશ્નોના એક વાક્યમાં જવાબ આપો:

(૦૪)

- ૧)આપણને સદાય કોનો સાથ છે?
 ૨)બકરીના બચ્ચાને શું કહેવાય?
 ૩)ઈશ્વર ક્યાં ક્યાં છે ?
 ૪)ઉંદરમામા ક્યાં રહે છે?

પ્ર.૨ (બ)નીચેના પ્રશ્નોના ત્રણ-ચાર વાક્યમાં જવાબ આપો: (ગમે તે ત્રણ)

(૦૬)

- ૧)સિંહની ઊંઘ શાથી બગડી?
 ૨)પ્રદક્ષિણામાં પહેલું કોણ આવ્યું? કેવી રીતે?
 ૩)નીંદવાનો વખત થતાં કાબરે કાગડાને શું કહ્યું?
 ૪)છોડવા ક્યાં જોવા મળે છે? તેની આસપાસ શું રમે છે?

પ્ર.૩ (અ)નીચેના શબ્દોનો ઉપયોગ કરી વાક્ય બનાવો.

(૦૪)

- ૧)તડકો ૨)સાંજ ૩)મીઠાઈ ૪)જંગલ

પ્ર.૩ (બ)નીચેની કાવ્યપંક્તિઓ પૂર્ણ કરો:

(૦૨)

- ૧)મને ચોમાસે.....ને ફૂલો રમે.

પ્ર.૩ (ક)નીચેના વાક્યો કોણ કોને કહે છે તે લખો.

(૦૩)

- ૧)“ચાલો, બાજરો બહુ સારો ઊગ્યો છે.”
 ૨)“મા, તમે અહીં આ સિંહાસન પર બેસો.”
 ૩)“મારા નાના મિત્ર! તારો ખૂબ આભાર!”

પ્ર.૪ (અ)નીચેના વાક્યોમાંથી સંજ્ઞા શોધી લખો.

(૦૨)

- ૧)મને કેરી ખૂબ ભાવે છે. ૨)ગંગા પવિત્ર નદી છે.

પ્ર.૪ (બ)નીચેનામાંથી કોઈ એક વિષય પર નિબંધ લખો.

(૦૪)

- ૧)મારું પ્રિય પંખી ૨)સરદાર વલ્લભભાઈ પટેલ

પ્ર:- ૧. (અ.) યોગ્ય વિકલ્પ પસંદ કરી સાચો જવાબ લખો . (06)

- (1) A brinjal has a crown, just like a
(A) king (B) girl (C) queen (D) boy
- (2) Mary had a lamb.
(A) little (B) litle (C) littel (D) big
- (3) If I were an
(A) orange (B) apple (C) onion (D) appel
- (4) My house is a little house.
(A) white (B) black (C) red (D) green
- (5) It made the children and play.
(A) laugh (B) cry (C) sing (D) dance
- (6) Vegetables make me and wise.
(A) wealthy (B) poor (C) healthy (D) haelthy

પ્ર:- ૧. (બ.) here અથવા there વડે ખાલી જગ્યા પૂરો. (02)

- (1) This is a ball. It is
(2) That is an orange. It is
(3) This is a car. It is
(4) That is a book. It is

પ્ર:- ૨. (અ.) નીચેની ખાલી જગ્યા યોગ્ય સ્પેલીંગ વડે પૂર્ણ કરો. (04)

- (1) twelve fourteen
(2) ten twelve
(3) seventeen nineteen
(4) fifteen seventeen

પ્ર:- ૨. (બ.) નીચેની ખાલી જગ્યામાં યોગ્ય Young ones નાં નામ લખો. (03)

- (1) a goat and
(2) a duck and
(3) a lion and

પ્ર:- ૩. (અ.) કૌંસમાં આપેલા શબ્દનો ઉપયોગ કરી પૂરા વાક્યમાં જવાબ લખો. (04)

- (1) What is this ? (an orange)
(2) What is that ? (a horse)
(3) What is this ? (an owl)
(4) What is that ? (a car)

પ્ર:- ૩. (બ.) પશ્ચાર્થ વાક્યો બનાવીને લખો. (04)

- (1) That is an elephant.
(2) This is a dog.
(3) That is a boat.
(4) This is a kite.

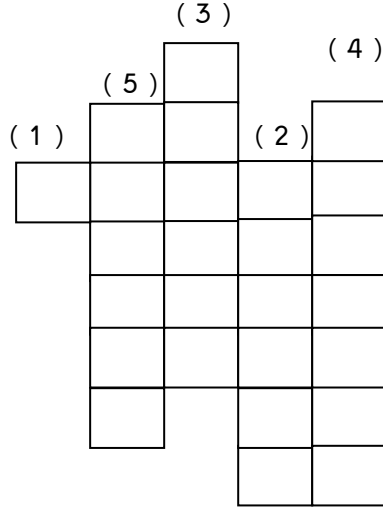
પ્ર:- ૪. (અ.) ખૂટતા અક્ષરો મૂકી સ્પેલીંગ પૂર્ણ કરો . (05)

- (1) ch ck n
(2) k tt n
(3) l m
(4) c l
(5) f a

પ્ર:- જ. (બ.) શબ્દવ્યૂહમાં ક્ષોણાં અંત્રેજી નામ લખો .

(1) કેરી (2) પપૈયું (3) કેળું (4) દ્રાક્ષ (5) નારિયેળ

(05)



પ્ર:- પ. (અ.) કૌસમાં આપેલા Yes અથવા No નો ઉપયોગ કરીને જવાબ લખો.

(04)

- (1) Is that a rat ? (No)
- (2) Is this a ball ? (Yes)
- (3) Is that a pencil ? (Yes)
- (4) Is this an egg ? (No)

પ્ર:- પ. (બ.) નીચેના ઉચ્ચારની સામે અંત્રેજી સ્પેલીંગ્સ અને ગુજરાતી અર્થ લખો .

(03)

- (1) ચિલિ
- (2) કૉલિફલાવર
- (3) ટમાટો

--Best Of Luck--

પ્ર.૧(અ)નીચેના વિકલ્પોમાંથી સાચો વિકલ્પ પસંદ કરી લખો.

(૦૬)

૧) લ ને ગુજરાતી માં કેવી રીતે લખાય?

(અ)ળ (બ)અ (ક)જ (ડ)લ

૨) ફ ને હિન્દી માં કેવી રીતે લખાય?

(અ)ફ (બ)લ (ક)મ (ડ)ક

૩) અનાર શબ્દમાં નીચેનામાંથી કયો મૂળાક્ષર છે?

(અ)દ (બ)ન (ક)વ (ડ)પ

૪) वह है।

(અ)ચિડિયા (બ)હાથી (ક)ગુડિયા (ડ)કૌઆ



૫) भालू - ने गुजराती માં કેવી રીતે લખાય?

(અ)હાન (બ)અજગર (ક)સીટી (ડ)રીછ

૬) चे - ने गुजराती માં કેવી રીતે લખાય?

(અ)પે (બ)ચે (ક)ચે (ડ)તે

પ્ર.૧(બ)નીચે આપેલા શબ્દોનું બહુવચન લખો.

(૦૨)

૧) फूल ૨) झूला ૩) सैनिक ૪) नदी

પ્ર.૧(ક)નીચે આપેલા શબ્દોનું એકવચન લખો.

(૦૨)

૧) नीबू ૨) पुस्तकें ૩) कबूतर ૪) केले

પ્ર.૧(ડ)ચિત્ર જોઈ यह, वह, ये, वे વડે ખાલી જગ્યા પૂરો.

(૦૫)

૧) आम है।



૨) चूहे हैं।



૩) घर है।



૪) चिड़ियाँ हैं।



૫) किताब है।



પ્ર.૨(અ)નીચેના વાક્યોનું ગુજરાતીમાં ભાષાંતર કરો.

(૦૪)

૧) यह कौन है?

૨) ऊँट रण का प्राणी है।

૩) फूल सुंदर होते हैं।

૪) कौआ रोटी खाता है।

પ્ર.૨(બ)નીચેના પ્રશ્નોના જવાબ લખો.

(૦૫)

૧) जंगल का राजा कौन है?

૨) मोर क्या करता है?

૩) कौनसा प्राणी सवारी के काम आता है?

૪) बगुला क्या करता है?

૫) हिरन क्या करता है?

પ્ર.૩(અ) હિન્દી શબ્દના ગુજરાતી અર્થ લખો.

(૦૪)

૧) तितली

૨) सहेली

૩) खरगोश

૪) हिरन

પ્ર.૩(બ) ગુજરાતી શબ્દના હિન્દી અર્થ લખો.

(૦૪)

૧) पाणी

૨) छोड़ो

૩) झूतरो

૪) यशमां

પ્ર.૪(અ)મને ઓળખી મારું નામ લખો.

(૦૪)

૧) मैं दूध देती हूँ।



૨) मैं सबसे बड़ा प्राणी हूँ।

૩) मैं गीत गाता हूँ।

૪) मैं खेती में उपयोगी हूँ।

પ્ર.૪(બ)ચિત્ર ઓળખી હિન્દી નામ લખો.

(૦૪)



પ્ર-૧ (અ) આપેલ વિકલ્પોમાંથી યોગ્ય વિકલ્પ પસંદ કરો.

(૦૬)

- (૧) ચારસો તેરને અંકમાં લખાય.
 (અ) ૪૩૧ (બ) ૪૧૩ (ક) ૩૧૪ (ડ) ૩૪૧
- (૨) $૧૦ \times ૫ =$
 (અ) ૫ (બ) ૧૦ (ક) ૫૦ (ડ) ૫૦૦
- (૩) $૫૦૫ \dots\dots\dots ૫૦૭$
 (અ) ૫૦૬ (બ) ૫૦૮ (ક) ૫૦૪ (ડ) ૫૦૯
- (૪) ૪૧૦માં ૪ની સ્થાનકિંમત..... થાય.
 (અ) ૪૦૦ (બ) ૧૦૦ (ક) ૪૦ (ડ) ૪
- (૫) $૧૦૦ + ૩૦૦ =$
 (અ) ૧૦૦ (બ) ૨૦૦ (ક) ૩૦૦ (ડ) ૪૦૦
- (૬) $૭૦૦ - ૫૦૦ =$
 (અ) ૫૦ (બ) ૧૦૦ (ક) ૧૫૦ (ડ) ૨૦૦

(બ) જોડકા જોડો.

(૦૩)

અ	જવાબ	બ
(૧) ૬×૪	(અ) ૧૨
(૨) ૪×૯	(બ) ૮૦
(૩) ૨×૬	(ક) ૨૪
(૪) ૩×૭	(ડ) ૩૬
(૫) ૮×૧૦	(ઈ) ૧૫
(૬) ૫×૩	(ચ) ૨૧

પ્ર-૨ (અ) નીચેની ખાલી જગ્યા પૂરો.

(૦૬)

- (૧) ૩૪૫ માં ૫ ની સ્થાન કિંમત થાય.
- (૨) ૫૦૭ ને શબ્દોમાં લખાય
- (૩) ૦, ૨, ૪, ૬, ૮ સંખ્યા છે.
- (૪) $૫ + ૫ + ૫ + ૫ =$
- (૫) ત્રણ કાગડાના પગ કેટલા થાય?.....
- (૬) $૭૪૮ - ૩૬ =$

(બ) નીચેના પ્રશ્નોના માગ્યા મુજબ દાખલા ગણો.

(૦૬)

- (૧) સંખ્યાને ચડતા ક્રમમાં ગોઠવો: ૧૨૪, ૨૧૪, ૧૪૨, ૪૨૧
- (૨) નીચે આપેલી સંખ્યામાંથી એકી સંખ્યા પર ૦ કરો. ૪૧૭, ૨૨૮, ૩૨૯, ૯૦૪
- (૩) $૨૦૦ + ૭૫ =$
- (૪) $૩૪૩ - ૧૨૧ =$
- (૫) $૧૧ \times ૫ =$
- (૬) $૧૦૦ + ૩૦૦ + ૪૦૦ =$

પ્ર - ૩ (અ) નીચેના દાખલા ગણો. (ગમે તે પાંચ)

(૧૦)

- (૧) સરવાળો કરો: ૩૧૪ + ૨૧૫ + ૧૨
- (૨) સાદું રૂપ આપો: ૭૮૯ + ૬૮ - ૨૯૩
- (૩) બાદબાકી કરો: ૬૩૨ - ૪૮૦
- (૪) ભાગાકાર કરો: ૨૬૨ ÷ ૩
- (૫) એક પુસ્તકની કિંમત રૂ ૫૫ છે તો ૪ પુસ્તકો ખરીદવા કેટલા રૂપિયા આપવા પડે?
- (૬) સરવાળો કરો: ૨૧૦ + ૯૮ + ૪૨૫

(બ) નીચેના દાખલા ગણો. (ગમે તે ત્રણ)

(૦૯)

- (૧) એક ખેડૂત ૯૦૦ રૂપિયા લઈને શહેરમાં ખરીદી કરવા ગયો. તેણે ૩૪૦ રૂપિયાનું બિયારણ અને ૨૪૮ રૂપિયાનું ખાતર ખરીદ્યું. હવે તેની પાસે કેટલા રૂપિયા વધ્યા હશે?
- (૨) જૉસેફે એક દુકાનમાંથી ૮ રૂપિયાની કિંમતવાળાં ૧૦૯ કંપાસ ખરીદ્યાં. તેણે દુકાનદારને કેટલા રૂપિયા ચૂકવ્યા હશે?
- (૩) એક વેપારીએ ૪૦૦ લીટીવાળી, ૩૭૦ કોરી અને ૧૫૮ ખાનાંવાળી નોટબુક વેચી તો તેણે કુલ કેટલી નોટબુક વેચી?
- (૪) મેઘાએ ૧૪૭ રૂપિયાના મગ, ૨૮૫ રૂપિયાના ચોખા અને ૩૨૫ રૂપિયાની ખાંડ ખરીદી, તો મેઘાએ કુલ કેટલા રૂપિયાની ખરીદી કરી?

નામ:	રો.નં	
પરીક્ષકની સહી :	મેળવેલ ગુણ	
નિરીક્ષકની સહી :	કુલગુણ	૪૦

પ્ર-૧ (અ) નીચે આપેલા પ્રશ્નનો જે ઉત્તર સાચા હોય તે વિકલ્પને આપેલ [] ખાનામાં લખી ખાલી જગ્યા પૂરો. (૦૬)

- | | |
|---|-----|
| (૧) ખેતર ખેડવા શાનો ઉપયોગ થાય છે ?
(અ) ટૅન્ક (બ) ટ્રેકટર (ક) કૅન (ડ) બસ | [] |
| (૨) હિંદુઓનું ધર્મપુસ્તક કયું છે ?
(અ) રામાયણ (બ) કુરાનેશરીફ (ક) અવેસ્તા (ડ) બાઈબલ | [] |
| (૩) કચ્છ જિલ્લાનું મુખ્યમથક કયું છે ?
(અ) વડોદરા (બ) ભુજ (ક) સુરત (ડ) બોટાદ | [] |
| (૪) ભારત કયા ખંડમાં આવેલો છે ?
(અ) યુરોપ (બ) આફ્રિકા (ક) એશિયા (ડ) ઍન્ટાર્કટિકા | [] |
| (૫) ટપાલ કોણ લાવે છે ?
(અ) ટપાલી (બ) સૈનિક (ક) નર્સ (ડ) વકીલ | [] |
| (૬) ભારતનું રાષ્ટ્રીય ફૂલ કયું છે ?
(અ) ગલગોટા (બ) મોગરો (ક) ગુલાબ (ડ) કમળ | [] |

(બ) નીચેની ખાલી જગ્યા પૂરો. (૦૫)

- (૧) જય જવાન, જય કિસાન સૂત્ર નેતાનું છે.
(૨) ભારતના રાષ્ટ્રદવજનાં વચ્ચેના પટ્ટામાં હોય છે.
(૩) કૉલકતામાં ઐતિહાસિક સ્મારક આવેલું છે.
(૪) વાહનવ્યવહારનું નિયંત્રણ કરે છે.
(૫) પૃથ્વીના.....ભાગ પર પાણી છે.

પ્ર-૨ (અ) જોડકા જોડો. (૦૪)

અ	જવાબ	બ
(૧) સ્ટમ્સ	(અ) બાસ્કેટ બૉલ
(૨) સ્કી	(બ) બેંડમિન્ટન
(૩) બાસ્કેટ	(ક) સ્કિઈંગ
(૪) શટલક	(ડ) ક્રિકેટ
(૫) વિશ્વનાથ આનંદ	(જ) લૉન ટેનિસ
(૬) સાનિયા મિર્ઝા	(ઝ) ચેસ
(૭) મેજર ધ્યાનચંદ	(ન) ટેબલ ટેનિસ
(૮) કમલેશ મહેતા	(મ) હૉકી

(બ) નીચેના વિધાનો ખરાં છે કે ખોટાં તે જણાવો. (૦૫)

- (૧) ઍમ્બ્યુલન્સમાં દર્દીને દવાખાને લઈ જવા માટે વપરાય છે. []
(૨) સચિન તેંડુલકર ટેનિસ રમત સાથે સંકળાયેલા હતા. []
(૩) ખ્રિસ્તીઓ ચર્ચમાં પ્રાર્થના કરવા જાય છે. []
(૪) ઍસ્ટ્રેલિયા સૌથી મોટો ખંડ છે. []
(૫) હવામહલ જયપુરમાં આવેલું છે. []

પ્ર-૩ (અ) નીચેના પ્રશ્નોના એક વાક્યમાં જવાબ આપો. (૦૫)

- (૧) પૃથ્વી પર કેટલા ખંડો આવેલા છે ?
(૨) વડોદરા જિલ્લાના મુખ્યમથકનું નામ લખો.....
(૩) બૌદ્ધ ધર્મના સ્થાપક કોણ હતા?.....
(૪) પી.ટી. ઉષા કઈ રમત સાથે જોડાયેલા હતા?.....
(૫) મુસાફરોને લાવવા-લઈ જવા માટે કયું યાંત્રિક વાહન વપરાય છે?.....

(બ) દરેકના બે-બે નામ આપો. (૦૫)

- (૧) કોઈપણ બે શહેરોના નામ આપો.....
(૨) કોઈપણ બે નેતાઓના નામ આપો.....
(૩) કોઈપણ બે સમાજસેવકોના નામ આપો.....

(જ) કોઈપણ બે વાજિંત્રોના નામ આપો.....

(પ) કોઈપણ બે યાંત્રિક વાહનોના નામ આપો.....

પ્ર-જ નીચેના પ્રશ્નોના ટૂંકમાં ઉત્તર આપો. (ગમે તે પાંચ)

(૧૦)

(૧) ગાંધીજીનું પૂરું નામ લખી તેમનું સૂત્ર લખો

જ.....

(૨) ભારતની રાષ્ટ્રમુદ્રામાં ધર્મચક્રની બંને બાજુ કયાં પ્રાણીઓનાં ચિત્રો છે?

જ.....

(૩) સૈનિકનું કાર્ય શું હોય છે?

જ.....

(૪) પૃથ્વીના કોઈપણ ચાર ખંડોના નામ લખો.

જ.....

(૫) હિંદુ ધર્મના ધર્મપુસ્તકો કયા કયા છે?

જ.....

(૬) રોડરૉલર અને લાયબંબાવાળોનો ઉપયોગ કયા થાય છે?

જ.....

--BEST OF LUCK--

ધોરણ : ૩
તારીખ : ૨૦/૦૮/૧૭

બરોડા હાઈસ્કૂલ, દંતેશ્વર
પ્રથમ સત્રાંત પરીક્ષા : ૨૦૧૭-૧૮
વિષય : કમ્પ્યુટર

સમય : ૨ કલાક

નામ :	રો.નં:	
પરીક્ષકની સહી :	મેળવેલ ગુણ	
નિરીક્ષકની સહી :	કુલગુણ	૪૦

પ્રશ્ન-૧ નીચે આપેલા બહુવિકલ્પીય પ્રશ્નોના જવાબ સામે આપેલા ખાનામાં લખો.

(૨૦)

૧. નવી લીટી પર જવા માટે.....કીનો ઉપયોગ થાય છે. ૧
- (A) કેંપ્સલોક (B) એન્ટર (C) બેકસ્પેસ (D) સ્પેસબાર
૨. માઉસ બટનને દબાવીને છોડી દેવાની ક્રિયાને.....કહે છે. ૨
- (A) ક્લિકિંગ (B) ડ્રેગિંગ (C) ડબલ-ક્લિક (D) સ્કોલિંગ
૩. વિન્ડોઝના મુખ્ય સ્ક્રીનનેકહે છે. ૩
- (A) સ્ક્રીન (B) મોનિટર (C) એ.એલ.યુ. (D) ડેસ્કટોપ
૪. કોઈ ચોક્કસ કીની ઉપર આપેલા વિકલ્પને ટાઈપ કરવા માટે.....કીનો ઉપયોગ થાય છે. ૪
- (A) એન્ટર (B) બેકસ્પેસ (C) શિફ્ટ (D) કેંપ્સલોક
૫. વિન્ડોઝમાં, કમાન્ડની યાદીનેકહે છે. ૫
- (A) મેનૂ (B) લીસ્ટ (C) પ્રોગ્રામ (D) ફાઈલ
- ૬.....ને કમ્પ્યુટર નું મગજ કહે છે. ૬
- (A) સી.પી.યુ. (B) એ.એલ.યુ. (C) સી.યુ. (D) મોનિટર
- ૭.....VDU તરીકે પણ ઓળખાય છે. ૭
- (A) કીબોર્ડ (B) મોનિટર (C) માઉસ (D) પ્રિન્ટર
૮. માઉસના ડાબા બટનને બે વાર દબાવીને તરત છોડી દેવું આ ક્રિયાને.....કહે છે. ૮
- (A) ક્લિક (B) ડબલ-ક્લિક (C) સીંગલ ક્લિક (D) ડ્રેગિંગ
૯.લખાણ કે ચિત્ર બંને છાપે છે. ૯
- (A) મોનિટર (B) પ્રિન્ટર (C) માઉસ (D) કીબોર્ડ
૧૦. અક્ષરોને કેપિટલમાં ટાઈપ કરવા માટે.....કીનો ઉપયોગ થાય છે. ૧૦
- (A) હોમ (B) ફંક્શન (C) કેંપ્સલોક (D) એન્ટર
- ૧૧.....એ એક ચંત્ર છે. ૧૧
- (A) ઝાડ (B) કમ્પ્યુટર (C) પુસ્તક (D) દફતર
- ૧૨.....ની જમણી બાજુ તમે સમય અને તારીખ જોઈ શકો છો. ૧૨
- (A) ટાસ્કબાર (B) સ્પેસબાર (C) ટાઈટલબાર (D) મેનૂબાર
૧૩. તમે જ્યારે કમ્પ્યુટર શરૂ કરો છો, ત્યારેએની મેને શરૂ થાય છે. ૧૩
- (A) પ્રોગ્રામ (B) રમત (C) વિન્ડોઝ (D) ચલચિત્ર
૧૪. અક્ષરો અથવા શબ્દો વચ્ચે જગ્યા છોડવા માટે.....કીનો ઉપયોગ થાય છે. ૧૪
- (A) બેકસ્પેસ (B) શિફ્ટ (C) એન્ટર (D) સ્પેસબાર
૧૫. કર્સરને એક લીટી ઉપર કે નીચે તથા લીટી પર ડાબે કે જમણે ખસેડવા માટે.....કીનો ઉપયોગ થાય છે. ૧૫
- (A) સ્પેસબાર (B) શિફ્ટ (C) ઓલ્ટર (D) કર્સર કી
૧૬. કર્સરની જમણી બાજુના અક્ષરને.....કી ભૂંસે છે. ૧૬
- (A) બેકસ્પેસ (B) સ્પેસબાર (C) ડિલીટ (D) શિફ્ટ
૧૭. સંગીત સાંભળવા.....નો ઉપયોગ થાય છે. ૧૭
- (A) પ્રિન્ટર (B) સી.પી.યુ. (C) સ્પીકર (D) માઉસ
૧૮. અક્ષરો, શબ્દો તથા વાક્યો લખવા માટે.....કીનો ઉપયોગ થાય છે. ૧૮
- (A) નંબર કી (B) લેટર કી (C) એન્ટર કી (D) શિફ્ટ
૧૯. માઉસનેપર રાખીને સરકાવવામાં આવે છે. ૧૯
- (A) પેડ (B) ટેબલ (C) કાચ (D) બુલેટ
૨૦. જ્યારે તમે.....બટન પર ક્લિક કરશો, ત્યારે તમને Start મેનૂ જોવા મળશે. ૨૦
- (A) ટાસ્કબાર (B) સ્ટાર્ટ (C) ડેસ્કટોપ (D) આઈકન

પ્રશ્ન-૨(અ) નીચે આપેલા વિધાનોમાંથી સાચા વિધાનને (✓) અને ખોટા વિધાનને (X) નિશાની કરો.

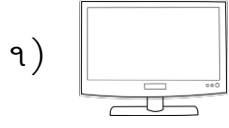
(૦૬)

૧. મોનિટરને બે કે ત્રણ બટન હોય છે. ()
૨. કીબોર્ડ પર ઘણી કી હોય છે. ()
૩. કમ્પ્યુટર ભૂલ કરે છે. ()
૪. કમ્પ્યુટર ઘણું બધું યાદ રાખી શકતું નથી. ()
૫. સી.પી.યુ. ટીવીના પડદા જેવું દેખાય છે. ()
૬. પ્રિન્ટરનો ઉપયોગ સંગીત સાંભળવા માટે થાય છે. ()

(બ) જોડકાં જોડો.

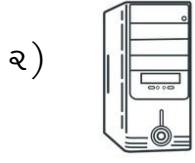
જવાબ

(૦૬)



(૧)

(અ) સ્પીકર



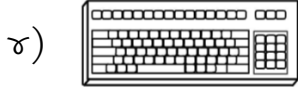
(૨)

(બ) પ્રિન્ટર




(૩)

(ક) મોનિટર



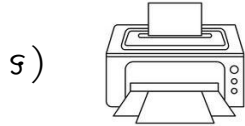
(૪)

(ડ) સી.પી.યુ.



(૫)

(ઘ) માઉસ

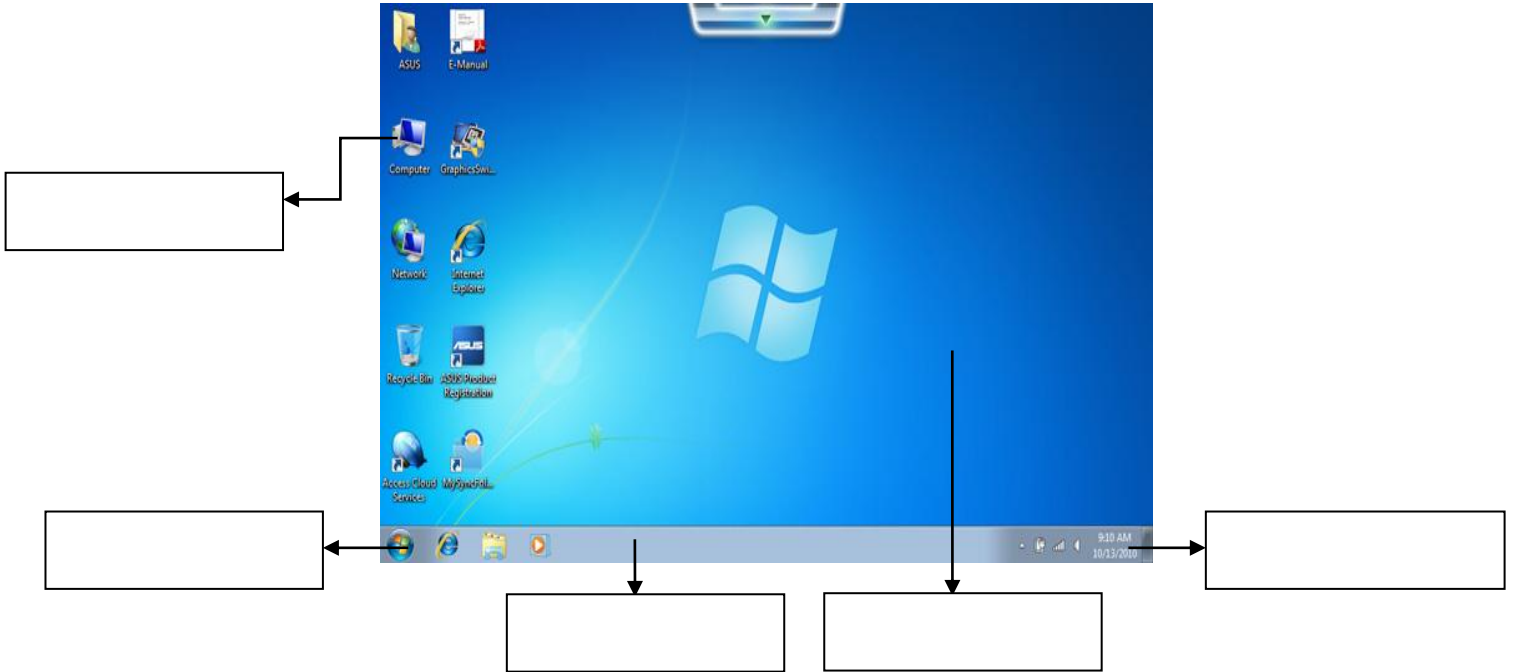


(૬)

(ઙ) કીબોર્ડ

પ્રશ્ન-૩ નીચે આપેલ વિન્ડોઝનો મુખ્ય સ્ક્રિનમાં આપેલ ખાનામાં નામ લખો

(૦૫)



પ્રશ્ન-૪ નીચે આપેલ પ્રોગ્રામનો ઉપયોગ લખો.

(૦૩)

૧. પેઇન્ટ:

૨. કેલ્ક્યુલેટર:

૩. નોટપેડ :

--Best Of Luck--

ઘોરણ:૩
તારીખ:૨૧ /૦૯/૧૭

બરોડા હાઈસ્કૂલ ઈતેશ્વર
પ્રથમ સત્રાંત પરીક્ષા :૨૦૧૭-૧૮
વિષય: ચિત્ર

સમય: ૨ કલાક
કુલ ગુણ: ૪૦

નીચે આપેલ વિષયો પૈકી ગમે તે એક વિષય પર ચિત્ર દોરી તેમાં આકર્ષક રંગપૂરણી કરો.

- રાખડી
અથવા
- ગોળ અને કેરી આકારથી બતક