

प्रश्नः 1 (अ) नीचे दिए गए विकल्पों में से सही विकल्प चुनकर उत्तर लिखिए :

(5)

1. बिरजू चाचा ने ---- में सब्जियाँ बोई थीं ।
(A) बगीचे (B) खेत (C) आँगन (D) मैदान
2. स्वदेश के लिए तडप-तडपकर मरने की सीख ---- देती है ।
(A) पृथ्वी (B) मछली (C) लता (D) धुआँ
3. अजय की ---- बीमार थीं ।
(A) दादी (B) दादा (C) माता (D) पिता
4. चाँद के भानजे कौन हैं ?
(A) खरगोश (B) हाथी (C) सरोवर (D) सूरज
5. चंदामामा रात को कहाँ आते हैं ?
(A) नीचे (B) जमीन पर (C) सरोवर में (D) घर में

प्रश्नः 1 (ब) सही वाक्यांश चुनकर विधानों को पूर्ण कीजिए :

(3)

1. यह छोटा बच्चा ----
(अ) इतना बड़ा झूठ बोला । (ब) ऐसे संकट में भी झूठ नहीं बोला ।
2. हम अपने घर के आसपास सफाई रखें , क्योंकि ----
(अ) इससे देवता प्रसन्न होते हैं । (ब) स्वच्छता से रोग दूर रहते हैं ।
3. हम अपनी गलती मानते हुए आपसे ----
(अ) छुट्टी माँगते हैं । (ब) माफी माँगते हैं ।

प्रश्नः 2 (अ) उचित शब्द रखकर रिक्त स्थानों की पूर्ति कीजिए :

(2)

1. गोल-गोल घर है मेरा , हर कमरे में ----
2. ---- हैं हम इस बगिया के ।
3. अजय ने मोहन को अपने ---- पर बुलाया ।
4. पृथ्वी से सीखो ---- की सच्ची सेवा करना ।

प्रश्नः 2 (ब) सूचना अनुसार कीजिए :

(5)

1. निम्नलिखित शब्दों के समानार्थी शब्द लिखिए :
1. फूल 2. सरिता
2. निम्नलिखित शब्दों के विरुद्धार्थी शब्द लिखिए :
1. मित्र 2. गीला
3. निम्नलिखित महावरों के अर्थ लिखिए :
1. अभिवादन करना 2. उँचे उठना
4. निम्नलिखित वाक्य से विशेषण ढूँँकर लिखिए :
1. हमारी कक्षा में पचास लडके हैं ।
5. निम्नलिखित वाक्य से क्रियापद ढूँँकर लिखिए :
1. मोहन पढता है ।

प्रश्नः 3 (अ) निम्नलिखित प्रश्नों के उत्तर एक-एक वाक्य में लिखिए :

(7)

1. लता और पेड़ों से हमें क्या सीख मिलती है ?
2. डाकू लडके को किसके पास ले गया ?
3. रजिया ने पानी की कमी दूर करने के लिए क्या उपाय बताया ?
4. अजय के मोहल्ले में गंदगी क्यों फैली हुई थी ?
5. हम कैसे आगे बढ सकते हैं ?
6. खरगोश क्यों दुःखी थे ?
7. पेड भोजन किससे करता है ?

प्रश्न:३ (ब) निम्नलिखित प्रश्नों के उत्तर दो-तीन वाक्य में लिखिए :(कोई भी तीन) (6)

१. खरगोशों के बिल कहाँ थे ?
२. अजय के मोहल्ले की सफाई कैसे हुई ?
३. तालाब में पानी भरने से दुमदुमा गाँव को क्या फायदा हुआ ?
४. लडका झूठ क्यों नहीं बोला ?

प्रश्न:४ (अ) निम्नलिखित वाक्यों का गुजराती में अनुवाद लिखिए : (4)

१. हम चाँद के भानजे हैं ।
२. कूड़ा कूड़ेदान में ही डालना चाहिए ।
३. दीपक रोशनी देता है ।
४. लौकी और गाजर का हलवा बनता है ।

प्रश्न:४ (ब) निम्नलिखित रूपरेखा के आधार पर कहानी लिखकर योग्य शीर्षक दीजिए : (3)

एक जंगल - पेड के नीचे शेर का सोना - पास में चूहों का दौडना - शेर का जाग जाना - गुस्सा करना - एक चूहे को पकडना - चूहे द्वारा दया की भीख माँगना - शेर को मदद करने का वचन - शेर का हँसना - चूहे का छुटकारा - एक दिन शिकारी का आना - शिकारी द्वारा जाल फैलाना - शेर का जाल में फँसना - दहाड मारना - उस चूहे का आना - जाल को कुतरकर शेर को छुडाना - सीख ।

प्रश्न:४ (क) निम्नलिखित विषयों में से किसी एक विषय पर निबंध लिखिए : (5)

१. मेरा गाँव
२. मेरी दिनचर्या

--Best Of Luck--

પ્રશ્ન-૧ (અ) નીચે આપેલા વિકલ્પોમાંથી સાચો વિકલ્પ પસંદ કરી જવાબ લખો. (૭)

(૧) ‘ શીતળ ’ શબ્દનો વિરુદ્ધાર્થી શબ્દ લખો.

(અ) ઠંડી (બ) ઉષ્ણ (ક) કનક (ડ) શાખા

(૨) ‘ ઠંસ ’ શબ્દનો સમાનાર્થી શબ્દ લખો.

(અ) મરાલ (બ) કરાલ (ક) સૌમ્ય (ડ) અશ્વ

(૩) અમેરિકાના ભૂતપૂર્વ રાષ્ટ્રપ્રમુખનો જીવન પ્રસંગ કયાં પાઠમાં છે?

(અ) અંપગના ઓજસ (બ) કદર (ક) ભૂલની સજા (ડ) ખીચડી પકાવું છું

(૪) આઝાદી શબ્દ લિંગ ઓળખો.

(અ) સ્ત્રી લિંગ (બ) પુલિંગ (ક) નપુંસકલિંગ (ડ) ત્રણ પૈકી એક પણ નહિ

(૫) ઘોડાને શાંના પલાણ છે?

(અ) પિત્તળના (બ) સ્ટીલના (ક) ચાંદીના (ડ) સોનાના

(૬) ‘ અંપગના ઓજસ ’ પાઠના લેખક કોણ છે?

(અ) દોલત ભટ્ટ (બ) જયોતીન્દ્ર દવે (ક) કુમારપાળ દેસાઈ (ડ) સુરેશ દલાલ

(૭) કોનું નસીબ ચાલતું રહે છે?

(અ) પૈસાદારનું (બ) નસીબદારનું (ક) વિદ્યા મેળવનારનું (ડ) ઉદ્યમ કરનારનું

(બ) માગ્યા મુજબ લખો.

(૧) નીચેના શબ્દોની સાચી જોડણી લખો. (૧)

૧. પીચકારિ ૨. પરતીમા

(૨) નીચેના વાક્યો કોણ બોલે છે અને કોને કહે છે તે લખો. (૨)

૧) “ પગ સાથે ? પગ તે કંઈ સાંભળતા હશે ? ”

૨) “ શેઠ કેટલા રૂપિયાનું લેણું ? આંકડો બોલો. ”

(૩) ‘ પેટે પાટા બાંધવા ’ રૂઢિપ્રયોગનો અર્થ લખી વાક્ય પ્રયોગ કરો. (૧)

(૪) શબ્દ સમૂહ માટે એક શબ્દ લખો.

૧) માન બતાવવા સરકાર તરફથી અપાતું સન્માન (૧)

(૫) આપેલ ખાલી જગ્યામાં યોગ્ય સર્વનામ મૂકો. (૨)

૧) નવીન વિદ્યાર્થી છે.ગીત ગાય છે

૨) કાલે મુબંઈ જવાનો છું.

(૬) નીચેના શબ્દોને શબ્દકોશની કકકાવારી ક્રમમાં ગોઠવો. (૧)

પાણી, ઈનામ, આંખ, સિકકા

પ્રશ્ન-૨ (અ) નીચેના પ્રશ્નોના જવાબ એક વાક્યમાં લખો. (૫)

(૧) વાલા કેસરિયાની કદર કોણે કરી ?

(૨) મન કયાં આળોટે છે ?

(૩) નખરા છોડીને કવિ શુ કરવાનું કહે છે ?

(૪) તાઓને રસ્તો સાફ કરતાં શું જડ્યું ?

(૫) નવજુવાનની અદેખાઈ કોણે કરી ?

(બ) નીચેની કાવ્ય પંક્તિપૂર્ણ કરો. (૨)

સોનાની સાંકળે..... બેરખા રે આંબાની ડાળ

પ્રશ્ન-૩ નીચેના પ્રશ્નોના જવાબ સવિસ્તારથી લખો. (કોઈ પણ ચાર) (૮)

(૧) પુસ્તક ખરાબ થઈ જવાથી અબ્રાહમ લિંકન શું વિચારે છે?

(૨) કેસરિયાએ વડોદરાને રામરામ કરવાનું શા માટે વિચાર્યું?

(૩) ડૉ. ભીમરાવના જીવનનાં મહત્વના કાર્યો કયાં કયાં છે?

(૪) તાઓએ ઘરના નોકરોને શી વાત કરતાં સાંભળ્યા?

(૫) વૉલ્ટરની માતા અપંગ પુત્ર માટે શું કરતી હતી?

પ્રશ્ન-૪ (અ) નીચેની કહેવતો સુભાષિતના આધારે સમજાવો. (કોઈ પણ એક) (૨)

(૧) ‘ પારકી આશ સદા નિરાશ ’

(૨) ‘ સંપ ત્યાં જંપ ’

(બ) નીચે આપેલ મુદ્દાઓને આધારે વાર્તા લખો. (૩)

એક લુચ્ચો દુકાનદાર - કરિયાણાની દુકાન-એક ગ્રાહક- ખાંડ ખરીદવી - દુકાનદારનું ઓછું તોલવું- ગ્રાહકની

ફરિયાદ- દુકાનદારનો જવાબ - વધારે વજન ઊંચકવું નહિ પડે- ગ્રાહકે ઓછા પૈસા ચૂકવવા- પૂરા પૈસા ચૂકવવા માટે

દુકાનદારની માંગણી - ગ્રાહકનો જવાબ પૈસા વધારે ગણવા નહિ પડે- બોધ.

(ક) નીચે આપેલા વિષયોમાંથી ગમે તે એક વિષય પર નિબંધ લખો. (૫)

(૧) મારો પ્રિય તહેવાર

(૨) ડૉ. બાબા સાહેબ આંબેડકર

--Best Of Luck--

પ્ર:- 1 (અ) યોગ્ય વિકલ્પ પસંદ કરી સાચો જવાબ લખો. (06)

- (1) The people of the villagers went back his
(A) home (B) work (C) garden (D) fair
- (2) Hemali a new car.
(A) have (B) was (C) has (D) were
- (3) Imran his teeth.
(A) is brushing (B) are brushing (C) is brush (D) are brush
- (4) The doctor is giving in the hospital.
(A) madicines (B) midicines (C) medecines (D) medicines
- (5) What is in the gardener's hands ?
(A) watering - can (B) water bottle (C) water mug (D) watering -cane
- (6) The shepherd - boy it was a great joke.
(A) though (B) through (C) thought (D) throught

પ્ર:- 1 (બ) નીચે આપેલા ફકરામાં યોગ્ય શબ્દ મૂકી પૂર્ણ કરો. (04)

After some time, again the (lion /mouse) was asleep. A
(hunter / mouse) caught him a net. Then the mouse (see / saw) the lion.
He ran up and cut the net. The (mouse / lion) was free.

પ્ર:- 2 (અ) કૌંસમાં આપેલા શબ્દોનાં ભૂતકાળનાં રૂપો વડે ખાલી જગ્યા પૂરો. (06)

- (1) Kiran a monkey in the cage. (see)
(2) You an essay. (write)
(3) The women clothes. (wash)
(4) The children the flowers. (pick)
(5) The policeman the truck. (stop)
(6) The girls in the garden. (dance)

પ્ર:- 2 (બ) કૌંસમાં આપેલા શબ્દોનાં ચાલુ વર્તમાનકાળનાં રૂપો વડે ખાલી જગ્યા પૂરો . (04)

- (1) Disha clothes. (wash)
(2) Yash on the stage. (hop)
(3) My mother a cake. (make)
(4) You a kite. (fly)

પ્ર:- 3 (અ) કૌંસમાં આપેલા શબ્દોનો ઉપયોગ કરીને પૂરા વાક્યમાં જવાબ લખો. (ગમે તે પાંચ) (05)

- (1) What is the carpenter doing ? (making furniture / making pots)
(2) Where is the fruit - seller ? (in the market / in the post - office)
(3) Who is mending shoes ? (The barber / The cobbler)
(4) Where is the lawyer ? (in the hospital / in the court)
(5) Who is dancing ? (The singer / The dancer)
(6) What is the farmer doing ? (dancing / farming)

પ્ર:- 3 (બ) નીચે આપેલા શબ્દોનો ઉપયોગ કરી સંવાદ પૂર્ણ કરો. (05)

[Which story ? / Good morning / am telling / an English Text book]

Teacher : Good morning, students.

Students : teacher.

Teacher : Please, give me

Now, I us a story.

Students : Yes, I want to hear , ?

Teacher : The lion and The mouse.

પ્ર:- 4 (અ) પાઠનાં આધારે પ્રશ્નોનાં જવાબ લખો. (ગમે તે પાંચ)

(05)

- (1) Who has a basket ?
- (2) Where is Pinku's family ?
- (3) What is Rohitbhai doing ?
- (4) Who is Golu's sister ?
- (5) Are there balloons on the sea-shore ?
- (6) Where is balloonman ?

પ્ર:- 4 (બ) નીચે આપેલા કોઈ પણ એક વિષય પર નિબંધ લખો.

(05)

- (1) My Family
- (2) At the zoo

--Best Of Luck--

પ્ર-1: અ-નીચેના વિકલ્પોમાંથી સાચો વિકલ્પ શોધીને લખો.

(06)

1.આહારના કયા સ્વાદથી પાચનક્રિયા સારી થાય છે?

- (A) ખાટો (B) તૂરો (C) કડવો (D) તીખો

2.શિયાળામાં ઠંડી પડે ત્યાર કયો પદાર્થ ઘન સ્વરૂપે જોવા મળે છે?

- (A) તેલ (B) દૂધ (C) ઘી (D) વરાળ

3.કપૂર કયા સ્વરૂપે જોવા મળે છે?

- (A) વાયુ (B) ઘન (C) વાયુ (D) વરાળ

4.ઘર બનાવવાની ઈંટનો મૂળ સ્ત્રોત કયો છે?

- (A) પ્રાણી (B) જમીન (C) વરસાદ (D) વનસ્પતિ

5. લોકો ગરમ કપડા કયા માસમાં પહેરે છે?

- (A) જાન્યુઆરીમાં (B) સપ્ટેમ્બરમાં (C) મેમાં (D) જૂનમાં

6.નીચેમાંથી કયું અંગ શ્વસન સાથે જોડાયેલું છે?

- (A) ફેફસા (B) હૃદય (C) ઘમની (D) શિરા

7.તૂરો સ્વાદ શામાંથી મળે છે?

- (A) શેરડી (B) કેરીની ગોટલી (C) સંતરા (D) મેથી

8.રેલવે અકસ્માત રોકનાર બાળકને કોણે શાબાશી આપી?

- (A) ગાર્ડ (B) સ્ટેશનમાસ્તરે (C) ટિકિટ ચેકરે (D) પોલિસે

9.ગ્રમપંચાયતના વહીવટી વડા કોને કહે છે?

- (A) સરપંચ (B) પ્રમુખ (C) તલાટી કમ મંત્રી (D) સભ્ય

11.નીચેમાંથી કઈ બાબત આપત્તિ નથી?

- (A) પૂર (B) ભૂકંપ (C) વાવાઝોડું (D) ચપ્પું વાગવું

12.કઈ જમીન વરસાદ પડતા ચીકણી અને લપસણી બને છે.

- (A) માટીયાળ (B) રેતાળ (C) કાંપાળ (D) કાળી

પ્ર-1-બ નીચે આપેલી ખાલી જગ્યા પૂરો.

(03)

1. હૃદય છાતીના.....ભાગમાં આવેલું છે.
2.જમીનની નિતારણશક્તિ વધુ હોય છે.
3. કાર્ય કરવાની શક્તિ.....સ્વાદમાંથી મળે છે.
4. પાણીને ગરમ કરતાં તેનું.....સ્વરૂપમાં રૂપાંતર થાય છે.
5. ઈ.સ.2001માં.....જિલ્લામાં ભૂકંપ આવ્યો હતો.
6. નાગરિકને મત આપવાનો અધિકાર.....વર્ષે મળે છે.

પ્ર-1-ક-નીચે આપેલા વિધાનો ખરા કે ખોટા જણાવો.

(03)

1. રસ્તા પર હંમેશા ડાબી બાજુએ ચાલવું જોઈએ.
2. પારો પ્રવાહી સ્વરૂપમાં હોય છે.
3. સરપંચની ચૂંટણી ગામનાં બધા મતદારો કરે છે.
4. સ્વાસનળી હૃદય સાથે જોડાયેલી છે.
5. શિયાળામાં દિવસ લાંબો હોય છે.
6. મુખવાસ તરીકે કેરીની ગોટલીનો ઉપયોગ થાય છે.

પ્ર:2-અ:-નીચેના પ્રશ્નોના જવાબ એક- બે વાક્યમાં લખો.

(7)

1. કેવો ખોરાક ન ખાવો જોઈએ?
2. કેવા પ્રકારની જમીન સૌથી ફળદ્રુપ હોય છે?
3. ઈલાજીનું બાવલું કોણે તોડી નાખ્યું?
4. રુઘિરાભિસરણ તંત્ર એટલે શું?
5. સરપંચ કોને કહે છે?
6. ચંદ્રશેખરે કોર્ટમાં પોતાનું નામ શું બતાવ્યું?
7. રક્તવાહિનીઓના બે પ્રકારના નામ જણાવો.

પ્ર:2-બ:-નીચેનામાંથી કોઈ પણ છ પ્રશ્નોના જવાબ ટૂંકમાં લખો.

(12)

1. વરસાદ વધારે વરસે ત્યારે શું થાય?
2. ગામમાં રોગચાળો ફાટી નીકળે તો તમે શું કરો?
3. હૃદય શું કામ કરે છે?
4. તાલુકા પંચાયતનું મુખ્ય કાર્ય શું છે?
5. માટીયાળ જમીનમાં પાણી કેમ ધીમે ધીમે ઉતરે છે?
6. ઘન પદાર્થ અને પ્રવાહી પદાર્થ વચ્ચેનો તફાવત લખો.
7. રેતાળ જમીન અને માટિયાળ જમીન વચ્ચે શો તફાવત છે?

પ્ર:3-અ:- નીચેનામાંથી કોઈ પણ બે પ્રશ્નોના જવાબ સવિસ્તા લખો.

(06)

1. અકસ્માત પછી શું શું મુશ્કેલીઓ આવી પડે છે?
2. ગ્રામપંચાયતના મુખ્ય કાર્યો જણાવો.
3. દિવસ-રાત લાંબા ટૂંકા થવાના કારણો જણાવો.

પ્ર:-3:બ:- નીચે આપેલી વિગતોને દુર્ઘટના અને આપત્તિમાં વર્ગીકરણ કરો.

(03)

(વાવાઝોડું, રોડ અકસ્માત, કેળાની છાલ પર આવતાપડી જવું, ભૂકંપ, ત્સુનામી ,ગરમ વસ્તુથી દાઝી જવું)

--Best Of Luck--

પ્રશ્ન : 1 (અ) નીચેની ખાલીજગ્યા પૂરો.

(06)

1. કૅલ્ક્યુલેટરનાબટનને દબાવવાથી તેમાં કરેલી તમામ ગણતરીઓ દૂર થાય છે.
(A) = (B) CE (C) AC (D) MR
2. 2, 4, 5 અને 9 ની સરાસરી..... છે .
(A) 4 (B) 5 (C) 6 (D) 7
3. $\frac{45}{60}$ નું અતિસંક્ષિપ્ત રૂપ.....છે.
(A) $\frac{3}{5}$ (B) $\frac{5}{10}$ (C) $\frac{3}{4}$ (D) $\frac{2}{3}$
4. મૂળકિંમત + ખરાજાત =.....
(A) પડતરકિંમત (B) વેચાણકિંમત (C) નફો (D) ખોટ
5. ત્રિકોણ ત્રણ ખૂણાઓનાં માપનો સરવાળો.....થાય છે.
(A) 90° (B) 100° (C) 60° (D) 180°
6. ઘડિયાળમાં 3:00 વાગ્યે બે કાંટા વચ્ચે..... બને છે.
(A) લઘુકોણ (B) કાટકોણ (C) ગુરુકોણ (D) 60° ના માપનો ખૂણો

(બ) નીચેના પ્રશ્નોના માગ્યા મુજબ જવાબ લખો :

(04)

1. લંબચોરસની પરિમિતિનું સૂત્ર જણાવો.
2. કૅલ્ક્યુલેટરને ગુજરાતીમાં શું કહે છે?
3. વર્તુળના કેન્દ્રમાંથી પસાર થતી જીવાને શું કહે છે ?
4. સમબાજુ ત્રિકોણ કોને કહેવાય?

(ક) નીચેનું વિધાન ખરું છે કે ખોટું તે જણાવો :

(05)

1. એક જ વર્તુળની બધી ત્રિજયાઓના માપ સરખા હોય છે.
2. વર્તુળની ત્રિજયા એ વર્તુળના વ્યાસ કરતાં બમણી હોય છે.
3. કાટકોણ ત્રિકોણમાં એક ખૂણાનું માપ 100° હોઈ શકે.
4. જે કિંમતે વસ્તુ વેચાય તે કિંમતને વેચાણકિંમત કહેવાય
5. ત્રિકોણના ત્રણ ખૂણાઓનાં માપ 40° , 60° , 80° હાઈ શકે.

પ્રશ્ન - 2 (અ) નીચેના દાખલા માગ્યા મુજબ ગણો. (ગમે તે આઠ)

(16)

1. 15 સે.મી લંબાઈની માપપટ્ટીનું ક્ષેત્રફળ શોધો.
2. કૅલ્ક્યુલેટરમાં કયા બટન દબાવશો તે દોરો : $537 + 21$
3. 300 , 285 , 304 , 297 , 279 અને 257 ની સરાસરી શોધો.
4. 4 સેમી ત્રિજયાવાળું વર્તુળ દોરો.તેનો વ્યાસ માપો.
5. સરવાળો કરો : $2\frac{1}{5} + 1\frac{2}{5}$
6. રૂા 167 માં ખરીદેલ ઘડિયાળ રૂા. 180 માં વેચતાં નફો કે ખોટ થાય?
7. ટોપલીમાંનાં m ટામેટાંમાંથી 16 ટામેટાંનું શાક બનાવતાં 12 વઘે છે.
8. ΔABC માં માપ $\angle A = 65^\circ$ તથા માપ $\angle B = 55^\circ$, તો માપ $\angle C$ શોધો.
9. કોણમાપકની મદદથી 85° માપના ખૂણાની રચના કરો.

(બ) નીચેના દાખલા ગણો.

(09)

1. એક દુકાનનો સોમવારથી શનિવાર સુધીનો દૈનિક વકરો અનુક્રમે રૂા 530 , રૂા 655 , રૂા 598 , રૂા 498 , રૂા 527 અને રૂા 516 છે, તો આ છ દિવસનો સરેરાશ વકરો કેટલા રૂપિયા થાય?
2. એક વેપારીએ અમુક માટલાં રૂા 3000 માં ખરીદ્યાં. તેને શહેરમાં લઈ જવાનું ભાડું રૂા 300 થયું. બધાં માટલાં વેચતાં તેને રૂા 3200 મળ્યા. તેને કેટલા રૂપિયા નફો કે ખોટ થાય?
3. કિજલ અને પિંકી બંને બહેનો છે. પિંકી કિજલને કહે છે, તું મારા કરતાં બે વર્ષ મોટી છે. જો પિંકીની ઉંમર 12 વર્ષ હોય ,તો કિજલની ઉંમર કેટલી થાય?

ઘોરણ:5
તારીખ: 10/04/18

બરોડા હાઈસ્કૂલ ઈતેશ્વર
દ્વિતીય સત્રાંત પરીક્ષા : 2017-18
વિષય: ચિત્ર

સમય: 2 કલાક
કુલ ગુણ: 40

નીચે આપેલ વિષયો પૈકી ગમે તે એક વિષય પર ચિત્ર દોરી તેમાં આકર્ષક રંગપૂરણી કરો.

- પતંગ ચગાવતો બાળક
અથવા
- ફળની ટોપલી

ધોરણ:5
તારીખ: 11/04/18

બરોડા હાઈસ્કૂલ દંતેશ્વર
દ્વિતીય સત્રાંત પરીક્ષા : 2017-18
વિષય:કમ્પ્યુટર

સમય: 2 કલાક

બેઠક નંબર :	બેઠક નંબર :	
પરીક્ષકની સહી :	મેળવેલ ગુણ	
નિરીક્ષકની સહી :	કુલ ગુણ	40

પ્રશ્ન :1 નીચે આપેલા પ્રશ્નનો જે ઉત્તર સાચા હોય તે વિકલ્પને આપેલ [] ખાનામાં લખો. (20)

- 1) બધા જ શબ્દોને એકસાથે બદલવા માટે, Find and Replace ડાયલોગ બોક્સમાં.....બટન પર ક્લિક કરો.
(A) Replace (B) Find (C) Replace All (D) Find All 1) []
- 2) ટૂલ્સ કે કમાન્ડ્સની યાદીને.....કહે છે.
(A) ડેસ્કટોપ (B) ઓલ પ્રોગ્રામ (C) મેનૂ (D) કમાન્ડસ 2) []
- 3) ડોક્યુમેન્ટના પેજ નંબર વગેરે જેવી માહિતી.....દર્શાવે છે.
(A) ટાસ્કબાર (B) ટાઈટલ બાર (C) મેનૂ બાર (D) સ્ટેટસ બાર 3) []
- 4) Sort Text ડાયલોગ બોક્સમાં, લખાણને Z to A ક્રમમાં ગોઠવવા માટે..... પસંદ કરો.
(A) Descending (B) Sorting (C) Arrange (D) Ascending 4) []
- 5) સિલેક્ટ કરેલા લખાણને પેજની વચ્ચે ખસેડવા માટે.....પર ક્લિક કરો.
(A) Center (B) Left (C) Justify (D) Right 5) []
- 6) કમ્પ્યુટરનાં બધાં જ સાધનોનેકહે છે.
(A) મોનિટર (B) હાર્ડવેર (C) ડિવાઈઝ (D) સૉફ્ટવેર 6) []
- 7) માઉસ બટનને દબાવેલું જ રાખીને પછી માઉસને સરકાવવાની ક્રિયાને.....કહે છે.
(A) પોઈન્ટિંગ (B) ક્લિકિંગ (C) ડ્રૉગિંગ (D) સ્ક્રોલીંગ 7) []
- 8) વિન્ડોઝના મુખ્ય સ્ક્રીનનેકહે છે.
(A) લેપટોપ (B) વોલ પેપર (C) ડેસ્કટોપ (D) આઈકન 8) []
- 9) ડોક્યુમેન્ટને વધારે આકર્ષક કરવા માટેનો ઉપયોગ થાય છે.
(A) વર્ડઆર્ટ (B) Font Family (C) ક્લિપ આર્ટ (D) ચિત્ર 9) []
- 10) જ્યારે તમે પ્રોગ્રામ ખોલો છો, ત્યારે વિન્ડોઝ તેના આઈકન બટનનેદર્શાવે છે.
(A) ટાસ્કબાર (B) ડેસ્કટોપ (C) મેનૂબાર (D) ટાઈટલબાર 10) []
- 11) કમ્પ્યુટર દ્વારા તૈયાર કરાતાં ચિત્રો તથા પ્રતીકોને.....કહે છે.
(A) ગ્રાફિક્સ (B) ચિત્ર (C) આઈકન્સ (D) વોલપેપર 11) []
- 12) વિન્ડો દ્વારા પસંદ કરાયેલા વિકલ્પને.....કહે છે.
(A) ડિફોલ્ટ ઓપ્શન (B) ડિફોલ્ટ (C) ડિફોલ્ટ સિલેક્શન (D) સિલેક્ટ 12) []
- 13) વર્ડમાંએ ચિત્રોનો સંગ્રહ છે.
(A) ક્લિપ આર્ટ (B) પિકચર (C) વર્ડઆર્ટ (D) મેમરિ 13) []
- 14) નવો કોરો વર્ડ ડોક્યુમેન્ટ ખોલવા માટે.....ટૂલનો ઉપયોગ થાય છે.
(A) New (B) Open (C) Save (D) Blank 14) []
- 15) ડોક્યુમેન્ટમાં તારીખ ઉમેરવા માટે.....ટૂલનો ઉપયોગ થાય છે.
(A) Date (B) Time (C) Date & Time (D) Insert 15) []
- 16) તમે પસંદ કરેલા લખાણની પશ્ચાદ્ભૂ.....ટૂલના ઉપયોગ વડે બદલી શકો છો.
(A) Font Color (B) Font Family (C) Shading (D) Color Palate 16) []
- 17) જો તમે.....બટન પર ક્લિક કરશો, તો ડેસ્કટોપ પરથી વર્ડ વિન્ડો અદૃશ્ય થશે અને તેનું આઈકન બટન ટાસ્કબાર પર તમે જોઈ શકશો.
(A) Restore down (B) Minimize (C) Maximize (D) Close 17) []
- 18) સિલેક્ટ કરેલા લખાણનું ડાબું અને જમણું માર્જિન યોગ્ય રીતે ગોઠવવા માટે.....ટૂલનો ઉપયોગ થાય છે.
(A) Justify (B) Right (C) Left (D) Center 18) []
- 19) ડોક્યુમેન્ટના ચોક્કસ પેજ કે લાઈન પર સીધા જ કૂદીને જવા માટે.....ટૂલનો ઉપયોગ થાય છે.
(A) Find (B) Replace (C) Word Count (D) GO TO 19) []
- 20) ફોન્ટ સાઈઝ વધારવા માટે.....બટન પર ક્લિક કરો.
(A) Shrink Font (B) Grow Font (C) Font (D) Superscript 20) []




પ્રશ્ન :2 નામ આપો.

(05)

- 1) પ્રોગ્રામનું નામ દર્શાવનાર બાર :
- 2) છેલ્લી ક્રિયાને ઉલટાવનાર ટૂલ :
- 3) સિલેક્ટ કરેલા લખાણને ખસેડવા માટેનાં ટૂલ્સ :
- 4) બુલેટવાળી ચાદી રચવા માટે :
- 5) શબ્દને શોધવા માટેનું ટૂલ :



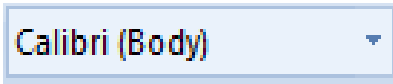



પ્રશ્ન :3 જોડકાં જોડો.

(05)

- 1)  1) (A) વર્ડ આઈકન
- 2)  2) (B) કલોઝ
- 3)  3) (C) સ્ટાર્ટ બટન
- 4)  4) (D) વર્ડ હેલ્પ
- 5)  5) (E) મેક્સિમાઈઝ

પ્રશ્ન :4 (અ) ટૂલ્સનાં નામ લખો.

(06)

- 1)  :
- 2)  :
- 3)  :
- 4)  :
- 5)  :
- 6)  :

(બ) ખરાં કે ખોટા લખો.

(04)

- 1) કમ્પ્યુટરને ચલાવવા માટે જરૂરી પ્રોગ્રામની શ્રેણીને સોફ્ટવેર કહે છે. ()
- 2) વિન્ડોઝ એ અતિ પ્રખ્યાત ઓપરેટિંગ સિસ્ટમ છે. ()
- 3) ફકરાની શરૂઆતના અક્ષરને મોટો કેપિટલ કરવા માટે સોર્ટ ટૂલનો ઉપયોગ થાય છે. ()
- 4) સિલેક્ટ કરેલા લખાણની નીચે લીટી દોરવા માટે અન્ડરલાઈન ટૂલનો ઉપયોગ થાય છે. ()

